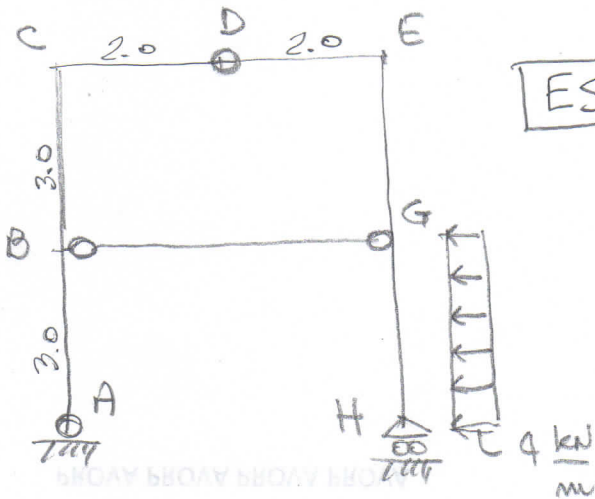


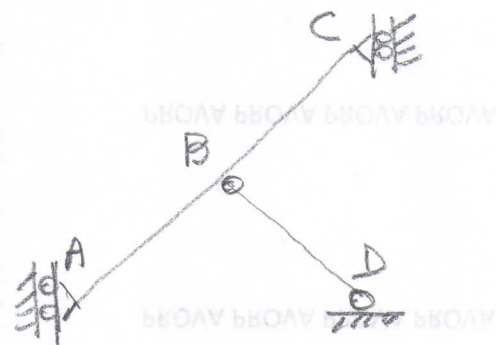
ES.1

- R.V. ext
- Sforzi normali in tutte le aste
- Diagrammi T, M quotati su BC



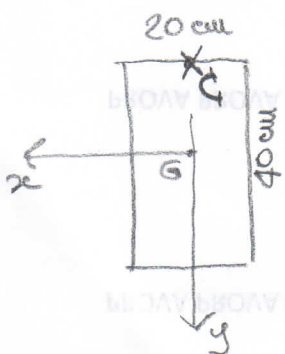
ES.2

- R.V. ext
- R.V. interne in D, B, G
- Diagrammi quotati di N, T, M



ES.3

- Riconoscere le strutture e spiegare perché.



$N_C = -20 \text{ kN}$

ES.4

- Determinare e disegnare N_G, H_G equivalenti
- Tracciare s, m • Determinare $A_e I_x$
- Determinare e tracciare m-m
- Tracciare diagramme σ_z
- Determinare $\sigma_z^{\text{max comp}}$ e $\sigma_z^{\text{max trax}}$