

A black and white photograph of two female sprinters in mid-stride on a track. They are wearing athletic gear with 'ITALIA' visible on their tops. The background shows a stadium setting with banners, including one that says 'FRANÇAISE' and another with 'Le sport pour tous'.

# BIOMECCANICA DEL MOVIMENTO UMANO

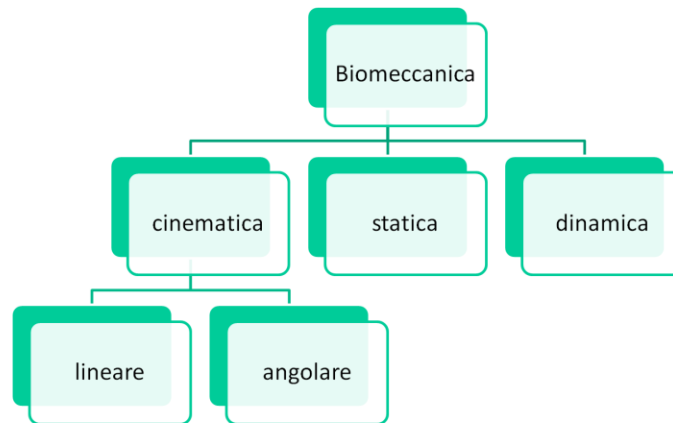
Davide Barbieri 2014  
Università di Ferrara

Meccanica: branca della fisica, studio del movimento.

Biomeccanica: studio del movimento animale.

Padre storico: G. A. Borelli, autore del *De Motu Animalium*, forse il primo trattato di Biomeccanica. Questo corso si concentra sul movimento umano.

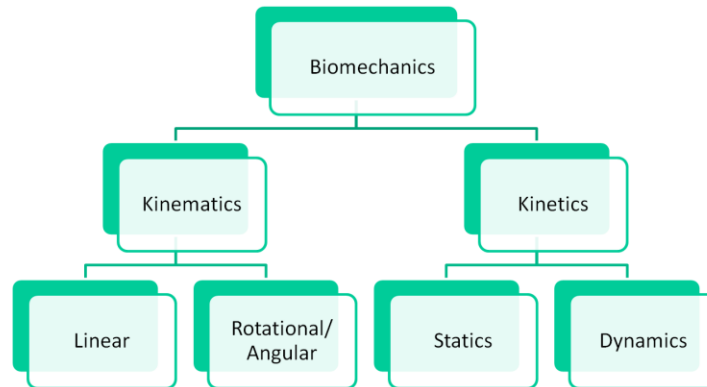
# Biomeccanica



Suddivisione classica della biomeccanica:

1. Cinematica:
  - a. Lineare
  - b. Angolare
2. Statica
3. Dinamica

# Biomechanics



Suddivisione nella letteratura anglo americana:

1. Kinematics

- a. Linear
- b. Rotational

2. Kinetics

- a. Statics
- b. Dynamics

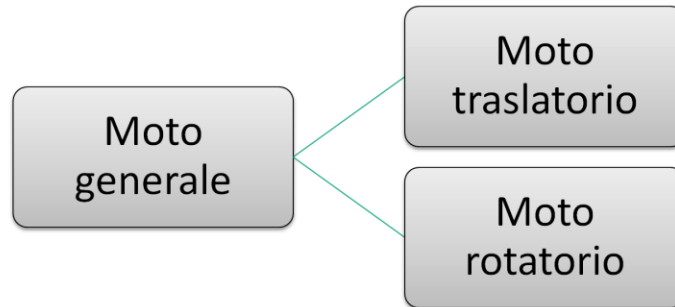
# CINEMATICA

Cinematica lineare  
Cinematica angolare

“Geometria” del moto: descrizione del moto a prescindere dalle cause che lo hanno provocato.

1. Cinematica lineare: moto rettilineo uniforme, moto rettilineo uniformemente accelerato.
2. Cinematica angolare: moto circolare uniforme, moto circolare uniformemente accelerato.

# Moto



Moto generale: combinazione di moto traslatorio e rotatorio.

# CINEMATICA LINEARE



Cinematica lineare: moto rettilineo, nessuna variazione di direzione.

1. Moto rettilineo uniforme
2. Moto rettilineo uniformemente accelerato

## Moto rettilineo uniforme

Accelerazione nulla:  $\vec{a} = 0$

Velocità istantanea = velocità media:  $v_m = \frac{\Delta s \text{ [m]}}{\Delta t \text{ [s]}}$

Nessuna variazione di velocità, né in intensità, né in direzione o verso.

In tale caso non rientra quello di un mezzofondista che procede con velocità costante in modulo ed entra in curva: la sua traiettoria cambia di direzione, il che impone all'atleta un'accelerazione.

In particolare, qui si tratta di una accelerazione centripeta, applicata dagli

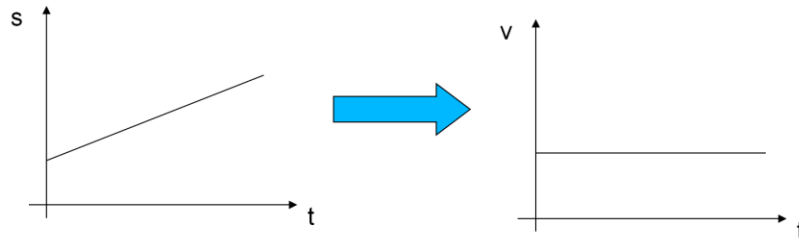
arti inferiori e dai chiodi delle scarpette alla pista, per mantenere il raggio delle traiettoria costante e uguale a quello delle pista in curva. Se ciò non avvenisse, l'inerzia del corpo/massa dell'atleta in velocità lo porterebbe a proseguire sulla traiettoria rettilinea tangente alla curva e quindi ad uscire dalla propria corsia (con conseguente squalifica).

Quindi il moto rettilineo uniforme implica traiettoria rettilinea e velocità costante in modulo.

Questo tipo di moto è descritto dal primo principio della dinamica: "Un corpo persiste nel proprio stato di quiete o di moto rettilineo uniforme se non interviene una forza a modificarlo".

Lo stato di quiete è un caso particolare di moto rettilineo uniforme.

$$v = \frac{\Delta s}{\Delta t} \Rightarrow \Delta s = v \Delta t \Rightarrow s - s_0 = v(t - t_0)$$



$$t_0 = 0 \Rightarrow s = s_0 + vt$$

$$s_0 = 0 \Rightarrow s = vt$$

Nel caso di moto rettilineo uniforme la velocità media e il modulo di quella istantanea sono uguali. Nel caso in cui  $s_0=0$  allora la formula si semplifica in modo ovvio.



## Esercizio 1

$$v=40 \text{ km/h}$$

$$t=3 \text{ min}, s_0=0$$

$s ?$



$$v=\Delta s/\Delta t \Rightarrow \Delta s=v \Delta t$$

$$s=(40/60)*3=2 \text{ km}$$

$$v=(40*1000)/3600 \cong 11,11 \text{ m/s}$$

Durante una gara di ciclismo a cronometro, un concorrente procede a velocità costante pari a 40 km/h in un tratto rettilineo.

Calcolare la distanza percorsa in 3 minuti, a partire da un punto di riferimento  $s_0=0$ .

Calcolare la velocità in m/s (1 ora equivale a 3600 secondi, 1 km a 1000 m).

## Esercizio 2

$v=5 \text{ m/s}$   
 $s=10000 \text{ m}$   
 $t ?$

$$\Delta t = \frac{\Delta s}{v} = \frac{10000 \text{ m}}{5 \frac{\text{m}}{\text{s}}} = 2000 \text{ s}$$



Un mezzofondista corre a una velocità costante di 5 m/s.  
Quanto tempo impiega per correre 10000 m ?

$2000/60 = 33 \text{ min } 20 \text{ s}$

In km/h:  $5 \cdot (3600/1000) = 5 \cdot 3,6 = 18 \text{ km/h}$

Per tornare ai m/s occorre dividere per 3,6:  $18/3,6 = 5 \text{ m/s}$

## Esercizio 3

$s=11\text{ m}$ ,  
 $v_m=22\text{ m/s}$   
 $t?$

$$\Delta t = \frac{\Delta s}{v_m} = \frac{11\text{ m}}{22\frac{\text{m}}{\text{s}}} = 0,5\text{ s}$$



Un calciatore tira un calcio di punizione da una distanza pari a 11 m dalla linea del goal.  
La velocità orizzontale media è 22 m/s.  
Quanto tempo impiega il pallone per arrivare in porta?

## Esercizio 4

$s=50$  m

s	$t_A$ (s)	$t_B$ (s)
0	0	0
10	1,9	1,8
20	3,0	2,9
30	4,0	3,9
40	4,9	4,7
50	5,7	5,5



Due atleti, A e B, percorrono 50 m alla loro massima velocità.

Nella tabella sono indicati i tempi parziali.

Calcolare le velocità medie in ogni intervallo.

$\Delta s$	$v_{mA}$ (m/s)	$v_{mB}$ (m/s)
0 – 10	$10/1,9 = 5,3$	$10/1,8 = 5,6$
10 – 20	$(20-10)/(3,0-1,9) = 9,1$	$(20-10)/(2,9-1,8) = 9,1$
20 – 30	$(30-20)/(4,0-3,0) = 10,0$	$(30-20)/(3,9-2,9) = 10,0$
30 – 40	$(40-30)/(4,9-4,0) = 11,1$	$(40-30)/(4,7-3,9) = 12,5$
40 - 50	$(50-40)/(5,7-4,9) = 12,5$	$(50-40)/(5,5-4,7) = 12,5$

$$\Delta s = v_m \Delta t = 12,5 \frac{m}{s} \cdot 0,2s = 2,5m$$

Calcolare la distanza tra B e A nel momento in cui il primo (B) taglia il traguardo (supponendo che A nell'ultimo tratto abbia corso con moto rettilineo uniforme).

L'atleta A arriva  $5,7-5,5 = 0,2$  s dopo B. Nell'ultimo tratto A corre alla velocità di  $12,5$  m/s, per cui la distanza tra B e A nell'istante in cui B taglia il traguardo è  $2,5$  m.

## Esercizio 5

$$d_{\max} = 20 \text{ m}$$

$$v_1 = 10 \text{ m/s}; v_2 = 8 \text{ m/s}$$

$$s_i = 5 \text{ m/s}$$

$$s_f = 2 \text{ m}$$

$$t ?$$



Due staffettisti devono effettuare un passaggio di testimone entro una zona di cambio lunga 20 m. Il primo frazionista entra nella zona di cambio con una velocità costante di 10 m/s.

Il secondo velocista accelera nella zona di pre-cambio, fino a raggiungere una velocità costante di 8 m/s all'ingresso della zona di cambio. Al momento dell'ingresso del primo velocista nella zona di cambio, il secondo ha percorso 5 m.

Dopo quanti secondi effettueranno il cambio, considerando che la distanza massima tra i due atleti deve essere di 2 m, al fine di poter passare il testimone? Il cambio è valido?

$$s_i = s_{2i} - s_{1i} = 5 \text{ m} ; s_f = s_{2f} - s_{1f} = 2 \text{ m}$$

$$v_1 = 10 \text{ m/s} ; v_2 = 8 \text{ m/s}$$

$$\Delta s = s_f - s_i = -3 \text{ m}$$

$$\Delta v = v_2 - v_1 = -2 \text{ m/s}$$

$$t = \Delta s / \Delta v = 3/2 = 1,5 \text{ s}$$

$$s_{1f} = v_1 t = 10 * 1,5 = 15 \text{ m}$$

$$s_{2f} = v_2 t + s_{2i} = 8 * 1,5 + 5 = 17 \text{ m}$$

Il cambio è valido: il testimone si troverà a circa 16 m dall'inizio della zona di cambio.

Risoluzione alternativa:

$$1 \quad s_1 = v_1 \cdot \Delta t = 10 \cdot \Delta t$$



$$2 \quad s_2 = s_o + v_2 \cdot \Delta t = 5 + 8 \cdot \Delta t$$

Supponendo che  $s_2 - s_1 = 2$  m (per passare il testimone):

$$s_2 - s_1 = 2$$

$$5 + 8\Delta t - 10\Delta t = 2 \Rightarrow -2\Delta t = -3 \Rightarrow \Delta t = 1,5s$$

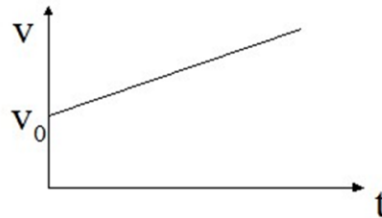
$$s_1 = 10 \cdot \Delta t = 10 \frac{m}{s} \cdot 1,5s = 15m$$

$$s_2 = 5 + 8 \cdot \Delta t = 5m + 8 \frac{m}{s} \cdot 1,5s = 17m$$



## Moto rettilineo uniformemente accelerato

$$\vec{a} = \text{cost} \neq 0$$



Accelerazione media:  $a_m = \frac{\Delta v \text{ [m]}}{\Delta t \text{ [s}^2\text{]}}$

Accelerazione istantanea:  $\vec{a} = \lim_{\Delta t \rightarrow 0} \frac{\Delta \vec{v}}{\Delta t} = \frac{d\vec{v}}{dt} = k$

Traiettoria rettilinea e accelerazione costante: la velocità non è costante ma varia linearmente.  
Accelerazione istantanea e media uguali in modulo:  $|\mathbf{a}|=a_m$

$$a = \text{cost} \Rightarrow a = \Delta v / \Delta t$$

$$v - v_0 = a(t - t_0)$$

$$\text{Se } t_0 = 0 \Rightarrow v = v_0 + at$$

$$v = ds/dt \Rightarrow s - s_0 = v_0 \int dt + a \int t dt \Rightarrow s = s_0 + v_0 t + \frac{1}{2} at^2$$

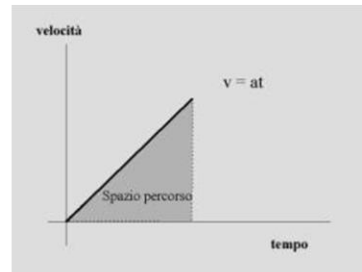
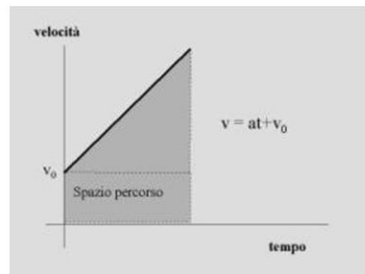
Formula alternativa:

$$v_m = \frac{v_i + v_f}{2} \quad s = v_m t + s_0$$

Se l'accelerazione è costante, la velocità media è data da (velocità iniziale + velocità finale)/2. Infatti, se  $a = \text{cost}$ , allora  $v$  è un segmento inclinato. La media ne è il punto medio. Questo metodo si può usare se  $a$  è cost ma ignota. Lo spazio può essere facilmente calcolato utilizzando la velocità media.

$$v_0 = 0 \Rightarrow v = at$$

$$s = s_0 + \frac{1}{2}at^2 \quad v_m = \frac{v_f}{2} \quad s = v_m t = \frac{v_f}{2}t$$



Caso particolare: partenza da fermo  $v_0=0$

Lo spazio nel grafico velocità-tempo è l'area sottesa dal segmento che descrive la velocità.

## Esercizio 6

- $v_0=216 \text{ km/h}$
- $s_0=500\text{m}$
- $a=2\text{m/s}^2$



$$s = s_0 + v_0 t + \frac{1}{2} a t^2 = 500\text{m} + 60 \frac{\text{m}}{\text{s}} \cdot 10\text{s} + \frac{1}{2} \cdot 2 \frac{\text{m}}{\text{s}^2} \cdot (10\text{s})^2 = 1200\text{m}$$

$$v_f = v_0 + a t = 60 \frac{\text{m}}{\text{s}} + 2 \frac{\text{m}}{\text{s}^2} \cdot 10\text{s} = 80 \frac{\text{m}}{\text{s}} = 288 \frac{\text{km}}{\text{h}}$$

Un'auto da corsa all'istante iniziale ha velocità pari a 216 km/h (= 60 m/s).

Lo spazio iniziale percorso è 500 m. L'accelerazione è 2 m/s<sup>2</sup>.

Calcolare lo spazio percorso dopo 10 s e la velocità finale.

## Moto di caduta dei corpi

$$(1) h = \frac{1}{2} g t^2$$

$$(2) v_f = g t$$

$$t = \sqrt{\frac{2h}{g}} \Rightarrow v_f = g t = g \sqrt{\frac{2h}{g}} = \sqrt{\frac{2h}{g} g^2} = \sqrt{2gh}$$

Caso particolare di moto uniformemente accelerato in cui  $a=g=9,8 \text{ m/s}^2$ .


Di solito lo spazio viene indicato con la lettera  $h$  (altezza).

La velocità finale (di impatto con il terreno o l'acqua), supponendo che l'oggetto venga lasciato cadere ( $v_0=0$ ) è:  $v=gt$ .

È possibile scrivere l'espressione della velocità in funzione solo dell'altezza di caduta, ricavando  $t$  dalla (1) e sostituendolo nella (2):  $t=\sqrt{2gh}$ .

## Esercizio 7

- $s=10\text{m}$
- $v?$



$$v_f = \sqrt{2gh} = \sqrt{2 \cdot 9,8 \frac{m}{s^2} \cdot 10m} = 14 \frac{m}{s} = 50,4 \frac{km}{h}$$

Un tuffatore si tuffa dalla piattaforma dei 10 m.

Calcolare la velocità di ingresso in acqua trascurando l'attrito con l'aria.

La velocità di caduta aumenta progressivamente a partire dall'altezza da cui si cade.

Ciò determina una maggiore velocità all'impatto con l'acqua e maggiore rischio di traumi.

Sott'acqua: accelerazione negativa.

## Esercizio 8

$$v_{0y}=20 \text{ m/s}, v_{0x}=15 \text{ m/s}$$

$t?$

$$t = t_{\text{su}} + t_{\text{giù}} = 2 t_{\text{su}}$$

$$v = v_0 + at$$



$$v_f = v_{oy} - gt_{su} = 0 \Rightarrow t_{su} = \frac{v_{oy}}{g} = \frac{20}{9,8} = 2,04s$$

$$t = 2t_{su} = 2 \cdot 2,04s = 4,08s$$

Un calciatore tira una calcio di punizione. Il pallone si stacca dal piede con una velocità verticale di 20 m/s e una velocità orizzontale di 15 m/s.

Calcolare il tempo di volo del pallone, trascurando qualsiasi forma di attrito.

Dal momento che il pallone si stacca dal piede del calciatore, l'unica accelerazione che agisce su di esso è quella di gravità.

Pertanto, il tempo di salita è uguale al tempo di discesa, poiché l'altezza iniziale è uguale a quella finale ( $y_i=y_f=0$ ):

$$t = t_{\text{su}} + t_{\text{giù}} = 2 t_{\text{su}}$$

Inoltre, poiché  $a=-g=\Delta v/\Delta t \rightarrow \Delta v=-g\Delta t$ .

## Esercizio 9

- $v_0=10$  m/s
- $\alpha=45^\circ$
- $y_0=2$  m
- $s$  ?

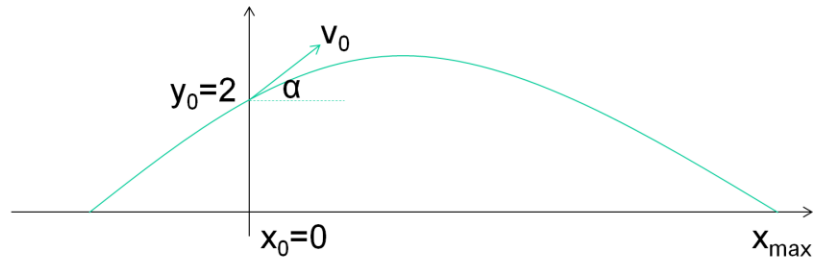


Un lanciatore getta il peso con una velocità iniziale  $v_0=10$  m/s. L'angolo di lancio rispetto all'orizzontale è  $\alpha=45^\circ$ .

L'altezza da cui il peso comincia la fase di volo è  $y_0=2$  m.

Calcolare la misura del lancio.





$$\begin{cases} a_x = 0 \\ a_y = -g \end{cases} \Rightarrow \begin{cases} v_x = v_{0x} \\ v_y = v_{0y} - gt \end{cases}$$

$$\begin{cases} v_{0x} = v_0 \cos \alpha = 10\sqrt{2}/2 = 5\sqrt{2} \\ v_{0y} = v_0 \sin \alpha = 10\sqrt{2}/2 = 5\sqrt{2} \end{cases}$$

Dal momento che il peso si stacca dalla mano del lanciatore ( $x_0=0$ ), il moto orizzontale è rettilineo uniforme, non essendo più applicate forze e trascurando la resistenza dell'aria. Il moto verticale invece è uniformemente accelerato, perché sul peso agisce l'accelerazione di gravità  $g$ .

$$\begin{cases} x(t) = x_0 + v_{0,x} t = v_{0,x} t \\ y(t) = y_0 + v_{0,y} t - \frac{1}{2} g t^2 \end{cases}$$

$$y(t_{\text{volo}}) = 0 \Rightarrow \frac{1}{2} g t^2 - v_{0,y} t - y_0 = 0$$

$$t_{\text{volo}} = \frac{-b \pm \sqrt{b^2 - 4ac}}{2a} = \frac{v_{0,y} \pm \sqrt{v_{0,y}^2 + 2gy_0}}{g} =$$

$$\frac{5\sqrt{2} + \sqrt{50 + 4g}}{g} \cong \frac{7,07 + \sqrt{50 + 39,2}}{9,8} = \frac{7,07 + 9,44}{9,8} = 1,68s$$

$$x(t) = v_{0,x} t_{\text{volo}} = 5\sqrt{2} \cdot 1,68 = 11,87m$$

Calcolo t, il tempo di volo.

Le radici dell'equazione sono due ma a noi interessa solo quella positiva (t è sempre positivo).

## Esercizio 10

$$v_i = 6 \text{ m/s}$$

$$h_0 = 2,4 \text{ m}$$

$h_{\text{max}} ?$



Durante una partita di pallavolo, l'alzatore alza la palla allo schiacciatore. La palla lascia le mani dell'alzatore all'istante  $t_0$ , ad una altezza di 2,4 m dal suolo, in direzione verticale, con una velocità di 6 m/s.

Quale sarà l'altezza massima raggiunta dalla palla?

$$v_f = v_i - g\Delta t \Rightarrow 0 = 6 - 9,8\Delta t$$

$$\Delta t = 6/9,8 \cong 0,61s$$

$$h = h_0 + v_0 t - \frac{1}{2}gt^2$$

$$h = 2,4 + 6 \cdot 0,61 - \frac{1}{2} \cdot 9,8(0,61)^2 \cong 4,2m$$

Poiché l'accelerazione è costante,  $a = a_m = (v_f - v_i)/\Delta t = -g$  da cui  $v_f = v_i - g\Delta t$ .